

2022年度高専入試対策

第四回 高専模試



高専入試 / 高専のための学習塾

ナレッジスター

社 会

(配点)

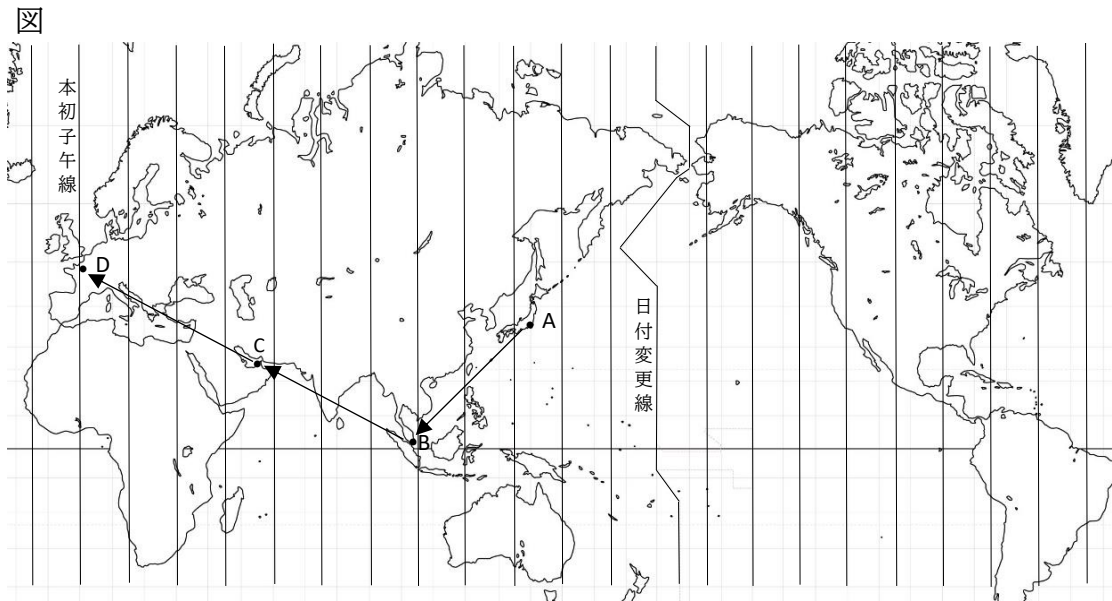
1	12点	2	12点	3	12点	4	12点	5	12点	6	12点	7	12点	8	16点
---	-----	---	-----	---	-----	---	-----	---	-----	---	-----	---	-----	---	-----

(注 意)

1. 解答を戻す際には、必ず画面一番下の「戻る」ボタンから戻るようにしてください。その他の方法で戻ってしまうと、今までの解答が消えたり、再度パスワードを求められる場合がございます。
2. 問題冊子は受験開始するまで開かないこと。
3. 問題冊子は必要に応じて印刷し、手元において受験すること。
4. 試験時間は 50 分です。時間は自分で計って受験し、時間になったら解答を送信してください。
5. 一つの解答欄に対して、複数のマークを塗りつぶしている場合は、有効な解答にはなりません。
6. 解答は、解答用紙の指定された解答欄にマークすること。指定された解答欄以外にマークしても有効な解答にはなりません。
7. 定規、コンパス、ものさし、分度器及び計算機は用いないこと。



- 1 次の図は経線が等間隔に引かれた世界地図である。この図を見て問1から問3までの各問に答えよ。



- 問1 都市Aから都市Bに飛行機で移動した。飛行時間は7時間、時差は1時間である。次の解説文は都市Bについて述べたものである。これを読んで当てはまる都市名を下のAからEのうちから一つ選べ。

解説文

この国の玄関口であるチャンギ国際空港は、東南アジアの拠点となる空港です。世界の多くの都市と航空路でつながっています。治安の良さや移民社会特有のエキゾチックな異文化体験といった多様な魅力があり、外国人観光客が増加しています。近年では多くの国に販売や生産の拠点をもち世界的に活動している多国籍企業の進出が数多く見られます。また、アジアNIESの一員でもあります。

教育出版 中学社会 地理より

A 台北 イ シンガポール ウ クアラルンプール エ ジャカルタ

- 問2 都市Bから都市Cに飛行機で移動した。飛行時間は7時間30分、時差は5時間である。Cの近隣諸国では原油の生産が多く、日本でもCが存在する国から原油を輸入しており、輸入量は全体の第2位(2019年)である。次の表1と表2は世界の原油の生産量と日本の原油の輸入先を示しており、aからc、xからzは国名である。下の解説文を読み、aからcとxからzの組み合わせとして正しいものを下のAからカのうちから一つ選べ。

表1 原油の生産量

国名	生産量
アメリカ合衆国	15.0%
a	12.9%
ロシア	12.6%
カナダ	5.7%
イラク	5.1%
イラン	4.9%
中国	4.2%
b	4.0%
c	3.3%
ブラジル	3.1%
その他	29.2%
合計	44.7億t

t=トン 2018年 BP資料より

表2 日本の原油の輸入先

国名	輸入金額
x	35.6%
y	29.9%
z	8.7%
クウェート	8.4%
ロシア	5.5%
その他	11.9%
合計	7兆9690億円

2019年 財務省貿易統計より

解説文

aの国は世界最大の石油輸出国で、イスラム教最大の聖地メッカがある。またアラブ諸国で唯一、G20に加盟している。bの国は7つの首長国で構成される連邦国家で80%以上が外国籍の住民である。zの国の面積は秋田県と同程度で、周囲をペルシャ湾に囲まれている。2022年のFIFAワールドカップ開催国になっている。

ア a=y イ b=x ウ c=x エ a=z

オ b=y カ c=z

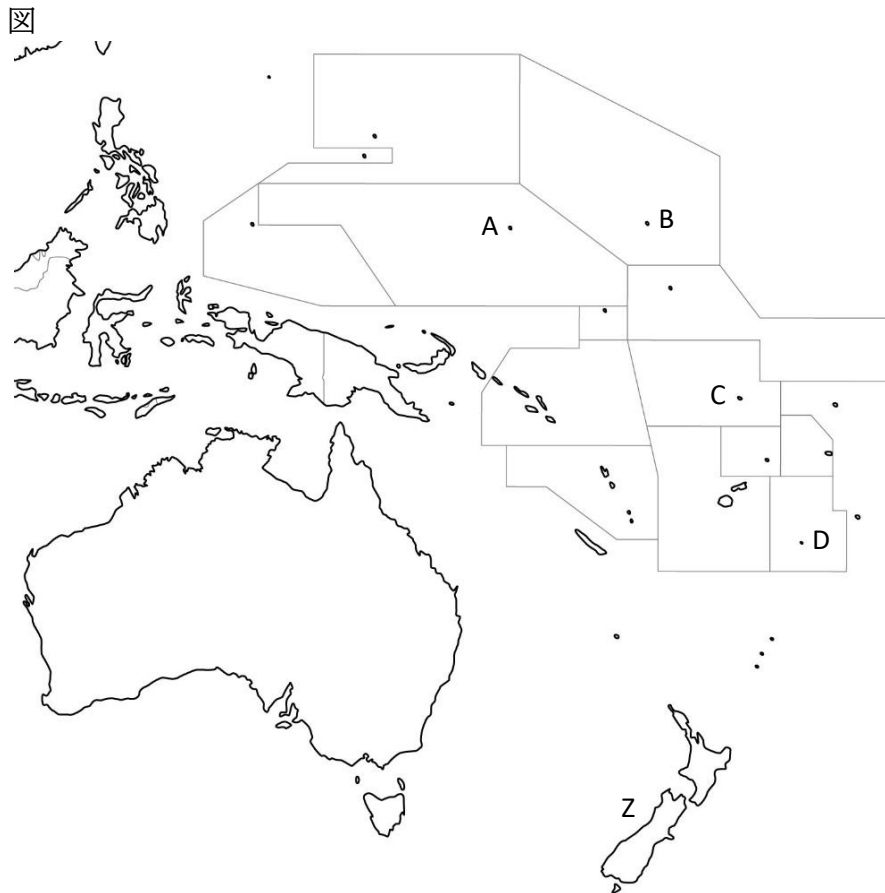
問3 都市Cから都市Dに飛行機で移動した。飛行時間は7時間であった。都市Aを12月1日、午前6時に出発して、到着した各都市に5時間滞在した。都市Dに到着したときの現地時間として正しいものを下のアからエのうちから一つ選べ。ただし、都市Aと都市Dの時差は8時間とし、都市Aから都市Cまでの飛行時間は問1、問2の問題文の通りとする。

ア 12月2日 午後1時30分 イ 12月2日 午前10時30分

ウ 12月2日 午前5時30分 エ 12月1日 午後7時30分

2

下の図はオセアニア州を表している。この図を見て次の問1から問3までの各問に答えよ。



問1 オセアニア州は一般的にいくつの地域に区分されるか。その数と名称の組み合わせとして正しいものを下のアからカのうちから一つ選べ。

ア 3地域－オーストラリア大陸、ニュージーランド、ニューギニア

イ 3地域－オーストラリア大陸、ポリネシア、ミクロネシア

ウ 4地域－オーストラリア大陸、ポリネシア、ミクロネシア、メラネシア

エ 4地域－オーストラリア大陸、ニュージーランド、ポリネシア、メラネシア

オ 5地域－オーストラリア大陸、ニュージーランド、ポリネシア、メラネシア、ミクロネシア

カ 5地域－オーストラリア大陸、ニューギニア、ポリネシア、メラネシア、ミクロネシア

問2 Zの国に古くから暮らす先住民を何と言うか。下のアからエのうちから一つ選べ。

ア イヌイット

イ アボリジニ

ウ アイヌ

エ マオリ

問3 次の解説文は図のAからDのいずれかの地域のことを述べている。この地域と国名の組み合わせとして正しいものを下のアからクのうちから一つ選べ。

解説文

平均標高が1m余りしかないこの国では、波による海岸浸食が激しさを増し、大潮のときには冠水の被害が広がるようになりました。そのため国際社会に対して、地球温暖化の原因となる温室効果ガス削減への取り組みを呼びかけています。

帝国書院 社会科中学生の地理より

ア A－フィジー共和国

イ B－トンガ王国

ウ C－トンガ王国

エ D－ツバル

オ A－ソロモン諸島

カ B－ソロモン諸島

キ C－ツバル

ク D－フィジー共和国

3

次の問1から問3までの各問に答えよ。

- 問1 次の文は関東地方の地形と気候について述べたものである。文中のAからCに当てはまる言葉の組み合わせとして正しいものを下のAからKのうちから一つ選べ。

関東地方は本州の中央部に位置し、日本最大の関東平野が面積の50%をしめており、流域面積が日本最大の利根川をはじめ、荒川や多摩川などが流れ、川沿いの広大な低地には水田が広がります。川の浸食でできた台地は、箱根山や富士山などの火山灰が堆積した A と呼ばれる赤土におおわれ、多くが畑作地帯になっています。内陸部の冬は、からっ風と呼ばれる冷たい北西の B が吹き、乾燥しています。南部の海沿いは C の影響で冬でも比較的温暖です。

東京書籍 新しい社会 地理より

- ア A－シラス B－偏西風 C－親潮
イ A－扇状地 B－季節風 C－黒潮
ウ A－関東ローム B－偏西風 C－親潮
エ A－シラス B－貿易風 C－黒潮
オ A－関東ローム B－季節風 C－黒潮
カ A－扇状地 B－貿易風 C－親潮

- 問2 次の語句は関東地方の都県に関連のあるものである。この語句と都県名の組み合わせとして正しいものを下のAからKのうちから一つ選べ。

語句

- a 富岡製糸場 b 足尾鉬毒事件 c ガールズアンドパンツァー
d 東京ディズニーリゾート e 渋沢栄一 f 国会議事堂
g 日米和親条約 h 益子焼

- ア a－栃木県 イ b－茨城県 ウ c－神奈川県 エ d－東京都
オ e－埼玉県 カ f－千葉県 キ g－群馬県 ク h－山梨県

- 問3 次の文章はある農業の特徴について述べたものである。この農業を何と言うか。下のAからEのうちから一つ選べ。

市場に出荷する野菜や果物などは新鮮さを求められるため、大都市周辺で行われるようになった園芸農業のこと。

- ア 近郊農業 イ 混合農業 ウ 酪農 エ 焼畑農業

次の問1から問3までの各問に答えよ。

問2 次の年表は平安時代末期から鎌倉時代初期に起こった出来事を表している。下の解説文のAに当てはまる語句と、この出来事が年表のどの期間で起きたかの組み合わせとして正しいものを下のアからカのうちから一つ選べ。

冒頭の部分より、一部要約

ア 藤原氏 イ 平氏 ウ 源氏 エ 北条氏

①	1156年	保元の乱が起こる
②	1159年	平治の乱が起こる
③	1185年	源頼朝が守護・地頭を置く
④	1192年	源頼朝が征夷大將軍になる

平清盛は、武士として初めて政治の実権を握りました。朝廷の最高の役職である A になり、娘を天皇の后にして、一族も高い位や役職を占め、広大な公領や荘園を支配して栄えました。

教育出版 中学社会 歴史より

ア A-摂政 ①と②の間 イ A-関白 ②と③の間

ウ A-太政大臣 ③と④の間 エ A-関白 ①と②の間

才 A-太政大臣 ②と③の間 カ A-摂政 ③と④の間

問3 10世紀後半に中国を統一した「宋」では、12世紀には茶や陶磁器の生産も盛んになり銅の貨幣(宋銭)とともに日本に輸出された。この頃、「宋」で発達、確立されたものでないものを下のアからカのうちから一つ選べ。

ア 木版印刷 イ 火薬の実用化 ウ 朱子学

エ 羅針盤の実用化 オ 禅宗や浄土宗 カ 陽明学

5 次の問1から問3までの各問に答えよ。

問1 政治の安定や商業の発達を背景に、17世紀末から18世紀初めにかけて、日本の上方と呼ばれる大阪・京都を中心に起こった文化を何と言うか。下のアからエのうちから一つ選べ。

ア 南蛮文化 イ 元禄文化 ウ 国風文化 エ 化政文化

問2 問1の文化の代表的な作品とその作者の組み合わせとして正しいものを下のアからクのうちから一つ選べ。

ア 井原西鶴 － 南総里見八犬伝 イ 尾形光琳 － 風神雷神図屏風

ウ 俵屋宗達 － 燕子花図屏風 エ 菱川師宣 － 見返り美人図

オ 十返舎一九 － 浮世草子 カ 葛飾北斎 － 富嶽三十六景

キ 徳川光圀 － 東海道中膝栗毛 ク 滝沢馬琴 － 大日本史の編集

問3 松尾芭蕉は1702年に「奥の細道」を著した。作品中には多くの俳句が読み込まれているが、次の3首を詠んだ順番として正しいものを下のアからカのうちから一つ選べ。

※松尾芭蕉は3月27日に江戸を発って、現在の埼玉、栃木、福島、宮城、岩手、秋田、山形、新潟、富山、石川、福井、滋賀、岐阜の14都府県を通ってきた。

俳句

① 「荒海や 佐渡によこたふ 天の川」

② 「夏草や つわもの 兵どもが 夢の跡」

③ 「五月雨を 集めて早し 最上川」

ア ① → ② → ③ イ ② → ③ → ① ウ ③ → ① → ②

エ ① → ③ → ② オ ② → ① → ③ カ ③ → ② → ①

6

次の問1から問3までの各問に答えよ。

- 問1 次の解説文を読んで、AとBに当てはまる言葉の組み合わせとして正しいものを下のアからカのうちから一つ選べ。

解説文

地中海沿岸は、農耕や牧畜に適した気候を持ち、商人の活動も古くから活発でした。ギリシャ人は、紀元前8世紀ごろから、アテネやスパルタのような都市国家 A を地中海各地に造りました。こうした都市国家の中心は、青年の男性からなる市民でした。市民は奴隷を持ち、農業を営み、戦争では兵士として戦いました。最も栄えたアテネでは、市民全員が参加して話し合っ国の方針を決める民会を中心に、B が行われました。

東京書籍 新しい社会 歴史より

- | | |
|------------------|-----------------|
| ア Aーアゴラ Bー共和政 | イ Aーアクロポリス Bー帝政 |
| ウ Aーアクロポリス Bー民主政 | エ Aーポリス Bー共和政 |
| オ Aーアゴラ Bー帝政 | カ Aーポリス Bー民主政 |

- 問2 次の文章はある人物のことを述べたものである。この人物名と文章の a と b に入る言葉の組み合わせとして正しいものを下のアからカのうちから一つ選べ。

古代ギリシャのマケドニアの王で、その治世の多くをアジアや北アフリカにおける戦役に費やし、26歳の時、大強国の a を破り、30歳までにギリシャからインド北西にまたがる大帝国を建設した。この結果、ギリシャ文明が東方に広まり、これを b と呼ぶ。この文化は後に、インド、中国、日本の美術にも影響を与えた。

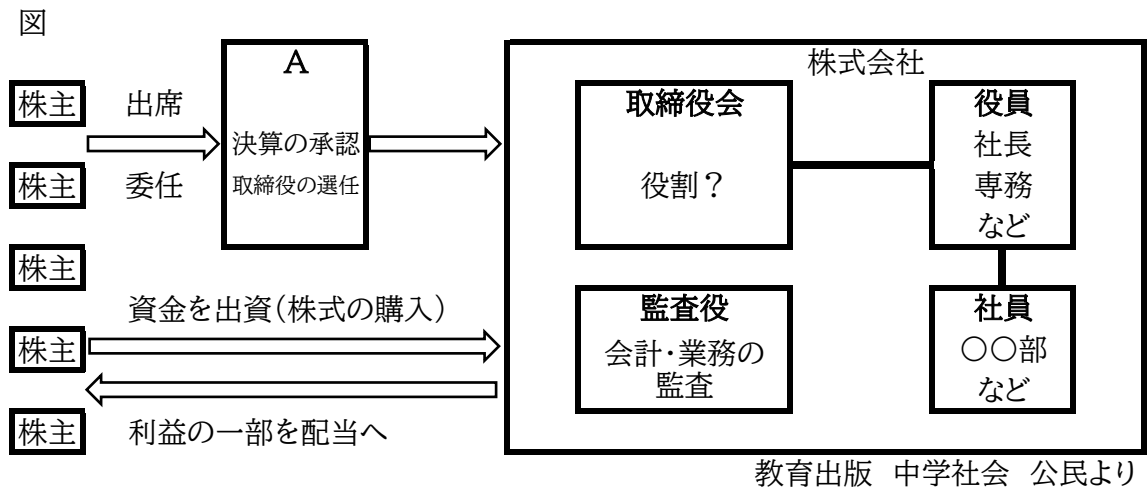
- | | |
|---------------------------|-------------------------|
| ア ムツソリーニ aーローマ bールネサンス | イ ハンムラビ aーペルシャ bーヘレニズム |
| ウ アレクサンドロス aーエジプト bーヘレニズム | エ ハンムラビ aーローマ bールネサンス |
| オ アレクサンドロス aーペルシャ bーヘレニズム | カ ムツソリーニ aーエジプト bールネサンス |

- 問3 紀元前27年にローマ帝国が成立したが、その時の中国の王朝は何か。また日本は何時代だったのか。組み合わせとして正しいものを下のアからカのうちから一つ選べ。

- | | |
|----------------|----------------|
| ア 中国ー秦 日本ー縄文時代 | イ 中国ー漢 日本ー縄文時代 |
| ウ 中国ー周 日本ー弥生時代 | エ 中国ー漢 日本ー弥生時代 |
| オ 中国ー秦 日本ー弥生時代 | カ 中国ー周 日本ー縄文時代 |

7

次の図は株式会社の仕組みを表した図である。これを見て問1から問3までの各問に答えよ。



問1 図中、株主はAに出席して議決に参加する権利がある。このAを何と言うか。下のアからエのうちから一つ選べ。

ア 理事会 イ 業績報告会 ウ 株主総会 エ 株主報告会

問2 図中、取締役会が果たす役割は何か。下のアからエのうちから一つ選べ。

ア 会社の業務方針を決定する。また重要な従業員の選任、解任なども決定する。

イ 新入社員の面接、面談を行う。

ウ 会社の備品(パソコン等)の購入を決定する。

エ 会社の就業時間や営業時間を決定する。

問3 株式を売買する場合、一般的にどこで売買するか。下のアからエのうちから一つ選べ。

ア 銀行 イ 株式会社 ウ 証券取引所

エ 証券会社

8

次の問1から問4までの各問に答えよ。

- 問1 次の表は主な国の国連予算の分担率である。AからDは国名である。AからDのうち、日本が当てはまるものはどれか。下のアからエのうちから一つ選べ。

表 主な国の国連予算の分担率

国名	拠出金
アメリカ	22.0%
A	12.0%
B	8.6%
ドイツ	6.1%
C	4.6%
フランス	4.4%
D	3.3%
その他	39.0%
合計	28億6700万ドル

2020年 外務省資料より

※参考

日本は日本円で約281億円を拠出している。
ただし、1ドル＝114円とする。

ア A イ B ウ C エ D

- 問2 国連の安全保障理事会は5カ国の常任理事国と10カ国の非常任理事国から構成され、平和に関する決議を行うことができるが、常任理事国は拒否権を持つため、1カ国でも反対すると決議ができない。現在の常任理事国はアメリカ、イギリス、フランスとその他2カ国であるが、その2カ国はどこか。下のアからカのうちから一つ選べ。

ア 中国と日本 イ ドイツと中国 ウ ロシアと日本

エ ドイツと日本 オ ロシアとドイツ カ 中国とロシア

- 問3 国連に関連する専門的な機関として正しくないものを下のアからカのうちから一つ選べ。

ア 国際原子力機関 イ 万国郵便連合 ウ 国際労働機関

エ 国際通貨基金 オ 国際標準化機構 カ 世界貿易機関

- 問4 現在の国連の本部はどこか。下のアからカのうちから一つ選べ。

ア ニューヨーク イ ジュネーブ ウ ロンドン

エ パリ オ ベルリン カ ローマ